

Заполняется ПЕЧАТНЫМИ БУКВАМИ чернилами черного или синего цвета по образцам:

А	Б	В	Г	Д	Е	Ж	З	И	К	Л	М	Н	О	П	Р	С	Т	У	Ф	Х	Ц	Ч	Ш	Щ	Ъ	Ы	Ь	Э	Ю	Я	@	8	9	,
А	В	С	Д	Е	Г	Ж	З	И	К	Л	М	Н	О	П	Р	Q	R	S	T	U	V	W	X	Y	Z	1	2	3	4	5	6	7	0	.

ПРЕДМЕТ

КЛАСС

ДАТА

ШИФР УЧАСТНИКА

D. L. 6

ФАМИЛИЯ

ИМЯ

ОТЧЕСТВО


D.l. 6

ВСЕРОССИЙСКАЯ ОЛИМПИАДА ШКОЛЬНИКОВ
ПО ФИЗИЧЕСКОЙ КУЛЬТУРЕ
2024–2025 уч.г.
ШКОЛЬНЫЙ ЭТАП

5–6 классы

ТЕОРЕТИКО-МЕТОДИЧЕСКИЙ ТУР

1. В каком виде спорта используется данный мяч?







- а) волейбол
- б) футбол
- в) гандбол
- + г) баскетбол

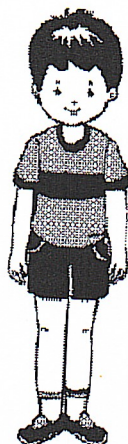
2. Какой ступени соответствуют нормы ГТО для школьников 11–12 лет?

- а) 1 ступень
- б) 2 ступень
- в) 3 ступень
- г) 4 ступень

3. Какую награду получали победители античных Олимпийских игр?


а) 	б) + 	в) 	г) 
--	--	---	--

4. Как называется гимнастическое положение, представленное на рисунке?




- а) исходное положение
- б) основная стойка
- в) стойка руки вниз
- г) стойка ноги вместе


5. Какой из талисманов соответствует зимним Олимпийским играм, проходившим в 2014 году в Сочи?



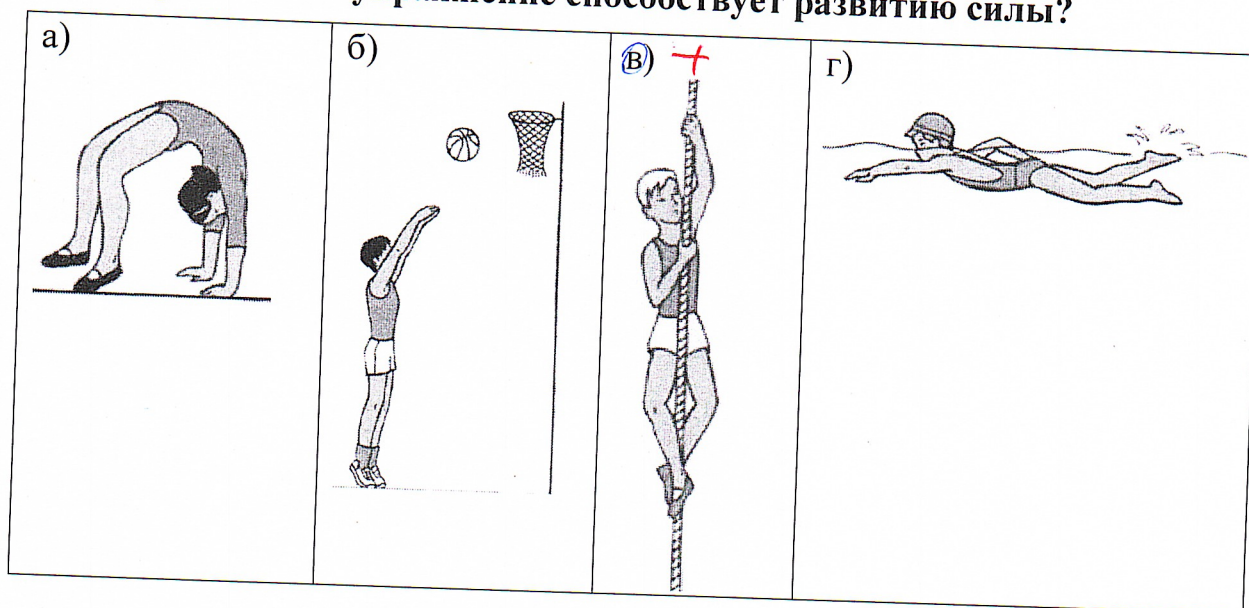
6. На каком изображении представлен вис на согнутых руках?



7. На какой фотографии изображена олимпийская чемпионка Светлана Хоркина?



8. Какое физическое упражнение способствует развитию силы?



9. Вид спорта, соединявший в себе борьбу и кулачный бой. Входил в программу античных Олимпийских игр.

- a) пентатлон
- б) панкратион
- в) долихотром
- г) гоплитотром


10. В каком виде спорта мяч имеет наибольший размер?

- a) гольф
- б) настольный теннис
- в) бейсбол
- г) баскетбол +

11. В каком виде спорта соревнования проводятся как на открытом воздухе, так и в крытых сооружениях?

- + а) лёгкая атлетика
 б) фигурное катание
 в) лыжные гонки
 г) фехтование

12. На каком рисунке представлена гирия?



13. Назовите вид спорта, в котором спортивная обувь, представленная на рисунке, является частью экипировки?



фигурное катание —

14. Педагог, специалист в каком-либо виде спорта, занимающийся подготовкой спортсменов, — это тренер 20

15. В каком году до нашей эры праздновались первые античные Олимпийские игры? В ответ запишите только число. 776 20

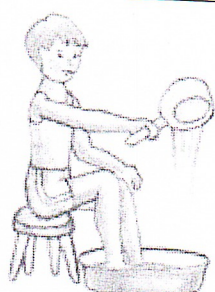



16. Способность выполнять движение с большой амплитудой — это гибкость 20

17. Спортивное сооружение, изображённое на фотографии, — это стадион 20



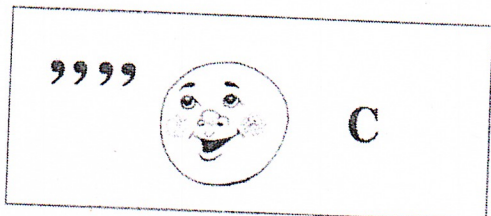
80

18. Установите соответствие между изображениями и видами закаливания водой.

Изображение	Вид закаливания
<p>1) </p> <p style="text-align: right;">в)</p>	<p>А) обливание</p>
<p>2) </p> <p style="text-align: right;">г)</p>	<p>Б) обтирание мокрым полотенцем</p>
<p>3) </p> <p style="text-align: right;">д)</p>	<p>В) ножные ванны</p>
<p>4) </p> <p style="text-align: right;">а)</p>	<p>Г) купание в открытом водоёме</p>

45


19-20. Разгадайте ребус. Используя иллюстрации, составьте термины из области физической культуры и спорта.



19.

20.

Уточно! 205



Предскажите!

*Лод
Лыжи
Шля*

*А.А. Пуршнев
В.И. Косов
Е.С. Пуршнёва
Н.А. Войцехова*