





ВСЕРОССИЙСКАЯ ОЛИМПИАДА ШКОЛЬНИКОВ ПО ИСТОРИИ.

ШКОЛЬНЫЙ ЭТАП. 5 КЛАСС.

ФИО участника	КРАМЛЕ Валерия
Класс	5Б
Наименование образовательной организации	СКОУ СОШ №8

работу проверил : Председатель жюри : Лушников А.А.
Члены жюри Банников Ю.В. 
Войбенко В.А. 
Вихлянцева С.К. 
Тригорьева А.И. 

Номер задания	1	2	3	4	5	ВСЕГО
Максимальный балл	28	22	22	12	16	100
ПО ИТОГАМ ПРОВЕРКИ	8	4	12	6	14	44

БЛАНК ОТВЕТОВ

Задание 1. ВЫПОЛНИТЕ ЗАДАНИЯ. ОБЩЕЕ КОЛИЧЕСТВО БАЛЛОВ 28

1.1..(от 2 до 4 баллов за каждый правильный ответ. Максимальный – 12 баллов)

1. Ответ (4 балла):

2. Ответ(2 балла):

3. Ответ(3 балла):

4. Ответ(3 балла):

1.2. (4 балла за каждый верный ответ. 2 балла за ответ на вопрос без вычисления. Максимальный балл 16)

Решите задачу. ОБЯЗАТЕЛЬНО пропишите арифметические действия.

Ответьте на вопросы:

1) В каком году родился торговец?

Ответ: торговцу родилась в 2047⁵³ году до нашей эры. 2

2) В каком году родилась дочь торговца?

Ответ: дочка родилась в 2024 году до нашей эры 2

3) В каком году дочке торговца исполнилось 15 лет?

Ответ: в 2009 году до нашей эры 2

4) В каком году торговец вернулся домой?

Ответ: в 2016 году до нашей эры. 2/8

Задание 2. ВЫПОЛНИТЕ ЗАДАНИЯ. ОБЩЕЕ КОЛИЧЕСТВО БАЛЛОВ 22

2.1. Расставьте даты в верной хронологической последовательности. (2 балл за каждый правильный ответ, максимальный балл – 10)

Ответ:

--	--	--	--

2.2. (2 балла за каждый правильный ответ, максимальный балл – 12) Верны ли следующие утверждения о представленном изображении («да» – «нет»)?

Ответ

1	2	3	4	5	6
да	нет	да	нет	да	да

○
○
2
2
○
○

4/4

Задание 3. ВЫПОЛНИТЕ ЗАДАНИЯ. ОБЩЕЕ КОЛИЧЕСТВО БАЛЛОВ 22

3.1. дайте развернутый ответ на вопрос: почему у египтян не было бога моря? (10 баллов)
 Ответ

3.2. Соотнесите название исторических вспомогательных дисциплин и предметы их изучения (2 балла за каждое правильное соответствие, максимальный балл – 10)
 Ответ

1	2	3	4	5	6
ХВ	Г	Б	А	А	Е

Задание 4. ВЫПОЛНИТЕ ЗАДАНИЯ. ОБЩЕЕ КОЛИЧЕСТВО БАЛЛОВ 12 (1 балл за каждый верный ответ)

Соотнесите описание памятника культуры («чудес света») с его названием и изображением. Впишите в соответствующие графы приведенной таблицы буквенные обозначения названий и римские цифры, которыми обозначены изображения.

Ответ

Описание памятника культуры	Название	Номер изображения
1	Висячие сады Вавилона	X 3
2	Статуя Зевса в Мраморе	5
3	Александрийский маяк	2
4	Срам Артемиды в Эфесе	4
5	Колос Родосский	X 5B
6	Пеликонтский мавзолей	1

Задание 5. ВЫПОЛНИТЕ ЗАДАНИЯ. ОБЩЕЕ КОЛИЧЕСТВО БАЛЛОВ 16.

Кто изображен на портретах? Ответы внесите в таблицы в бланке ответов.

5.1. Подпишите имя (1 балл), фамилию (1 балл) и род деятельности (1 балл) этих людей.

1.	2.	3.	4.
Имя: <u>Александр</u>	Имя: <u>Михаил</u>	Имя: <u>Юрий</u>	Имя: <u>Михаил</u>
Фамилия: <u>Луцкий</u>	Фамилия: <u>Свердлов</u>	Фамилия: <u>Зачарин</u>	Фамилия: <u>Куцаков</u>
Род деятельности: <u>материатура</u>	Род деятельности: <u>литература</u>	Род деятельности: <u>режиссер</u>	Род деятельности: <u>педагог</u>

5.2. Кто из них связан с нашим регионом (2 балла)? 8.3. Назовите два исторических места (памятника) в нашем регионе, имеющих отношение к этому человеку (2 балла).

№ портрета	Исторические места (памятники)	
	1.	2.
2	<u>дом Лермонтова</u>	

2

14