

СВ9

Всероссийская олимпиада школьников

ШКОЛЬНЫЙ ЭТАП

Заполняется ПЕЧАТНЫМИ БУКВАМИ чернилами черного или синего цвета по образцам:

А	Б	В	Г	Д	Е	Ж	З	И	К	Л	М	Н	О	П	Р	С	Т	У	Ф	Х	Ц	Ч	Ш	Щ	Ъ	Ы	Ь	Э	Ю	Я	@	8	9	,
А	В	С	Д	Е	F	G	Н	І	J	K	L	M	N	O	P	Q	R	S	T	U	V	W	X	Y	Z	1	2	3	4	5	6	7	0	.

ПРЕДМЕТ

ГЕОГРАФИЯ

КЛАСС

8А

ДАТА

27.09.2024

ШИФР УЧАСТНИКА

СВ9

ФАМИЛИЯ

Скворцова

ИМЯ






Виктория

ОТЧЕСТВО

Викторовна

Итого: 545.

Представитель жюри
Глеба жюри

 М.А. Вozник
 К.С. Жуrкова
 Н.В. Babitskova
 E.В. Kapeeнкo
 M.И. Kудымoв

СВ9

ВСЕРОССИЙСКАЯ ОЛИМПИАДА ШКОЛЬНИКОВ ПО ГЕОГРАФИИ
2024-2025 УЧЕБНОГО ГОДА. ШКОЛЬНЫЙ ЭТАП

Задания для 9 класса.

Прочитайте задание и выберите из предложенных ответов один правильный.

За каждый правильный ответ – 1 балл.

Максимально за тестовый раунд – 15 баллов.

1. Найдите город, не изменявший свое название в советское время и входящий в число городов-миллионеров России:

- 1) Волгоград
- 2) Нижний Новгород
- 3) Самара
- 4) Казань

2. Подумайте, какой известный физико-географический объект объединяет такие страны как Россия, Туркмения, Иран, Казахстан, Азербайджан:

- 1) Уральские горы;
- 2) Кавказские горы;
- 3) Прикаспийская низменность;
- 4) Каспийское море.

4. Найдите соответствие между субъектом федерации и наиболее характерной отраслью специализации его сельского хозяйства.

1. Приморский край	а) выращивание сои
2. Дагестан	б) выращивание льна
3. Чувашия	в) виноградарство
4. Псковская обл.	г) картофелеводство

5. Выберите административный центр автономной области, расположенной на Дальнем Востоке:

- 1) Анадырь
- 2) Биробиджан
- 3) Нарьян-Мар
- 4) Элиста

6. Найдите ошибку в перечне народов, традиционным занятием которых является оленеводство.

- 1) якуты
- 2) ненцы
- 3) коряки
- 4) саамы
- 5) ногайцы

7. Выберите вариант, в котором правильно указан центр целлюлозно-бумажной промышленности и водный объект, вблизи которого он расположен:

- 1) Архангельск — Северная Двина
- 2) Братск — Байкал
- 3) Сыктывкар — Ладожское озеро
- 4) Усть-Илимск — Енисей

8. Для какой природной зоны характерны такие условия формирования как постоянно высокие температуры круглый год, большое количество атмосферных осадков, выпадающих круглогодично и ежедневно:

- 1) тундра;
- 2) тайга;
- 3) степь;
- 4) влажные экваториальные леса.

9. Выберите правильное утверждение о циркуляции воздушных масс по сезонам в субтропическом климатическом поясе:

- 1) зимой и летом господствуют тропические воздушные массы;
- 2) зимой – умеренные воздушные массы, летом – тропические;
- 3) зимой – тропические воздушные массы, летом – умеренные;
- 4) зимой – тропические воздушные массы, летом – экваториальные.

10. Выберите центр нефтепереработки, расположенный на Транссибирской железнодорожной магистрали, в который по трубопроводу поступает нефть Западной Сибири:

- 1) Новосибирск
- 2) Ангарск
- 3) Нижневартовск
- 4) Чита
- 5) Благовещенск
- 6) Уфа

11. Крупный центр черной металлургии:

- 1) Иркутск
- 2) Самара
- 3) Череповец

12. Определите (подчеркните) народ, в своем историческом прошлом бывший кочевым, появившийся на территории современного проживания в России в XVII в.

- 1) калмыки
- 2) карелы
- 3) алтайцы
- 4) адыгейцы
- 5) нивхи

13. Выберите город — столицу субъекта федерации, расположенного в Уральском экономическом районе, — специализирующийся на производстве стрелкового оружия:

- 1) Пермь
- 2) Уфа
- 3) Нижний Тагил
- 4) Ижевск

14. Выберите правильное сочетание, в котором дан регион России, граничащий с тремя государствами, и указаны столицы этих государств:

- 1) Новгородская обл. — Вильнюс, Минск, Таллин
- 2) Брянская обл. — Киев, Минск, Кишинев
- 3) Алтайский край — Астана, Пекин, Бишкек
- 4) Псковская обл. — Таллин, Рига, Минск

15. Паромная железнодорожная переправа в России работает по маршруту ...

- 1) Клайпеда - Мукран
- 2) Ильичёвск - Варна
- 3) Ванино - Холмск

1	2	3	4	5	6	7	8	9	10	11	12	13	14	15
4	4		1-9 2-8 3-7 4-6	2	1	4	4	4	4	3	5	4	2	3
1	1	1	1	1	0	1	1	1	1	1	0	1	0	1

Аналитический раунд.

128

Задание 1

Придя из школы, восьмиклассник Костя обнаружил на компьютере составленный старшим братом незакрытый файл. Вспомнив урок географии России, который был в тот

день последним, он без труда выполнил задание: «Определите рекорды России, и субъекты в которых они находятся / наблюдаются»:

№	Географический рекорд РФ	Субъект РФ
1	Самый большой архипелаг <u>Северное Земля</u> 1	<u>Крайневский край</u>
2	Самый большой по площади заповедник _____	
3	Самый восточный остров <u>Патмиково</u> 1	<u>Чукотка АО</u> 1
4	Самое большое соленое озеро, полностью располагающееся в пределах страны <u>Чаны</u> 1	<u>Новосибирская обл.</u>
5	Самое влажное место _____	
6	Самое крупное месторождение нефти _____	
7	Самый большой озерный остров <u>Ольхон</u> 1	<u>Иркутская обл.</u>
8	Самый большой полуостров Европейской части России <u>Кольский</u> 1	<u>Мурманская обл.</u>
9	Самая длинная река под одним названием <u>Лена</u> 1	<u>Восточная Сибирь</u>
10	Самое большое по объему водохранилище _____	

115

Максимальное количество баллов – 20.

Задание 2

Этот водоем самый глубокий в России, он содержит 1/5 запасов пресных вод планеты (не считая ледников). В него впадает более 300 рек, а вытекает из него только одна. Берега водоема покрыты почти полностью хвойными лесами. По берегам открыты заповедники. В одном из них, открытом в 1916 году, в районе хребта на восточном берегу обитает ценный зверек, имеющий такое же название, что и хребет, полученное по названию реки, впадающей в водоем. Эта же река дала имя северо-восточному ветру. Водоем расположен в зоне активных тектонических движений. Поэтому часто в этом районе бывают землетрясения. В 1862 году в результате одного из них неподалеку от дельты самой крупной реки, впадающей в водоем, погрузился под воду большой участок суши. В 1920-х годах в поселке, расположенном у истока вытекающей реки, был открыт стационар по изучению водоема.

Что это за водоем?

В каких субъектах Российской Федерации он расположен?

Как называется река, вытекающая из водоема?

Как называется река, давшая название зверьку, хребту и ветру? Как называется этот зверек?

У устья какой реки находится погрузившийся объект и как он называется?

Максимальное количество баллов – 20.

Задание 3

В современном мире огромное значение приобрели рекреационные ресурсы, т.е. ресурсы природных территорий, используемые в целях отдыха, лечения и туризма. Эти ресурсы могут иметь как природное, так и антропогенное происхождение. К ним относятся и объекты антропогенного происхождения, в первую очередь историко-архитектурные памятники (например, дворцово-парковые ансамбли Петродворца под Санкт-Петербургом и Версаля под Парижем, римский Колизей, афинский акрополь, египетские пирамиды, Великая Китайская стена и др.). Но основу рекреационных ресурсов составляют все же природные элементы: живописные морские побережья, берега рек, леса, горные районы и т.д.

Заполните таблицу: для указанных субъектов РФ укажите уникальные природные объекты, расположенные на их территории, а для перечня природных объектов укажите субъект РФ, в котором они располагаются.

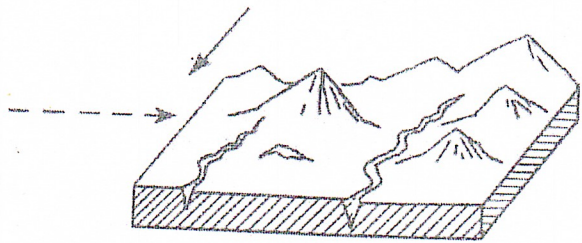
Субъекты РФ	Уникальные природные объекты
Камчатский край	Курильское озеро 0
Иркутская область	Озеро Байкал 2
Пермский край	Наилейший город 2
Ставропольский край	Гора Шолохо 2
Дмитриев область 2	Ленские столбы
Мурманская область 2	Хибины
Ирамо дарский Край -	Грязевые вулканы
	Лечебная грязь соленых озер
	Куршская коса и побережье Балтийского моря
Нарачево - Перемля	гора Эльбрус

Максимальное количество баллов – 20.

10 5

Задание 4

На рис. 3 схематически изображен участок территории, через которую прокладывают трубопровод. С какими трудностями, вызванными особенностями природных условий, пришлось бы столкнуться строителям на этом участке, если бы он находился: а) в тундре; б) в полупустынной и пустынной зонах? К каким негативным экологическим последствиям могло бы привести строительство в



↙ Уклон
 - - - -> Направление строительства трубопровода

каждом из этих случаев и как их избежать?

Рис. 3. Участок территории, через которую прокладывают трубопровод

Максимальное количество баллов – 25

0 5